











MATERI MATEMATIKA KELAS 1 BAB 1

Bilangan

A. Bilangan 1 sampai 10

Ayo belajar mengenal angka!







Perhatikan gambar berikut!

 1 Satu	 2 Dua	 3 Tiga	 4 Empat	 5 Lima
 6 Enam	 7 Tujuh	 8 Delapan	 9 Sembilan	 10 Sepuluh

B. Membandingkan Banyak Benda

Untuk membandingkan banyak benda, kita bisa menggunakan tiga pernyataan yaitu lebih banyak, lebih sedikit dan sama banyak. Sekarang kita akan membandingkan banyak benda.

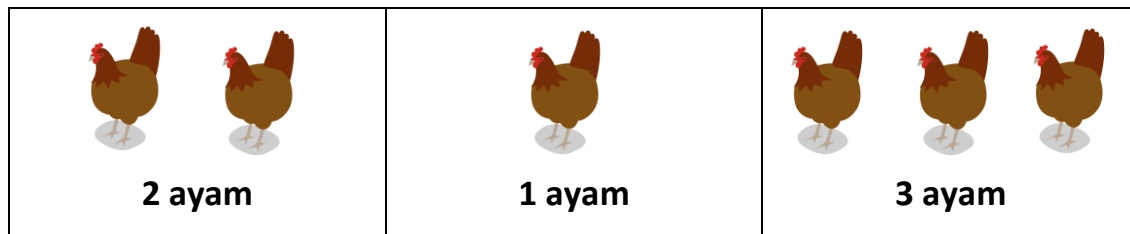
Perhatikan gambar berikut ini!

 2 tas	 1 tas	 2 pensil	 3 pensil	 3 baju	 3 baju
2 tas lebih banyak dari 1 tas		2 pensil lebih sedikit dari 1 pensil		3 baju sama banyak dengan 3 baju	

C. Mengurutkan Bilangan

Bilangan dapat diurutkan dari yang terkecil atau terbesar.

Perhatikan contoh berikut!



Pada gambar di atas terdapat banyak ayam. Sebelah kiri ada 2 ayam, tengah ada 1 ayam, sedangkan sebelah kanan ada 3 ayam. Ayo sekarang kita urutkan dari yang paling sedikit yaitu 1 ayam, 2 ayam, dan 3 ayam. Maka, kita bisa mengurutkan bilangan dari yang terkecil adalah **1, 2, 3.**

Lalu bagaimana dengan mengurutkan bilangan dari yang terbesar?

Ayo kita urutkan jumlah ayam dari yang paling banyak yaitu 3 ayam, 2 ayam, dan 1 ayam.

Maka, kita bisa mengurutkan bilangan dari yang terbesar adalah **3, 2, 1.**

D. Menjumlahkan Banyak Benda

Nina mempunyai 1 apel.

Ibu memberikan 1 apel lagi untuk Nina.

Berapa banyak apel Nina sekarang?

Penyelesaian :

Memberikan lagi berarti banyak apel bertambah. Untuk memahami penjumlahan, kita bisa membayangkan dengan benda. Contohnya pada gambar di bawah ini :

